


Nombre ..... Fecha .....

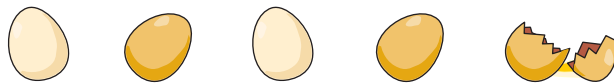
Lee los problemas y completa las operaciones.

**A** Hay 6 manzanas y me como 2. ¿Cuántas quedan?




$$\boxed{6} - \boxed{\phantom{0}} = \boxed{\phantom{0}}$$

**B** Hay 5 huevos y se rompe 1. ¿Cuántos quedan?




$$\boxed{\phantom{0}} - \boxed{\phantom{0}} = \boxed{\phantom{0}}$$

**C** Tenía 10 magdalenas. Si me como 3, ¿cuántas me quedan?



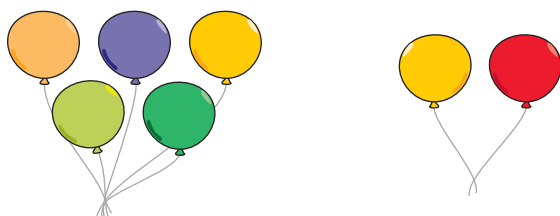
$$\boxed{\phantom{0}} - \boxed{\phantom{0}} = \boxed{\phantom{0}}$$

**D** Tengo 9 globos y explotan 3. ¿Cuántos quedan?



$$\boxed{\phantom{0}} - \boxed{\phantom{0}} = \boxed{\phantom{0}}$$

**E** Tengo 5 globos y me regalan 2 más. ¿Cuántos tengo en total?



$$\boxed{\phantom{0}} + \boxed{\phantom{0}} = \boxed{\phantom{0}}$$