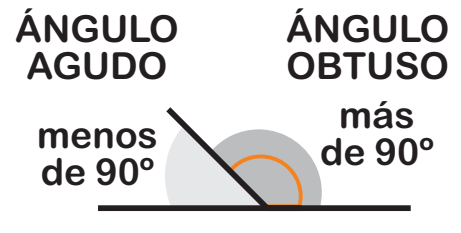
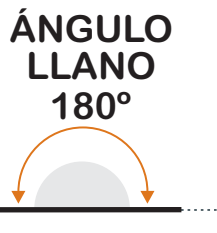
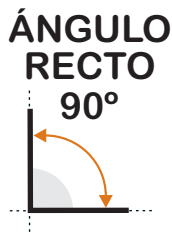


Dos líneas que parten del mismo punto forman un ángulo.
Los hay de diferentes tipos:



Ángulos complementarios:

si suman 90°

Ángulos suplementarios:

si suman 180°

1. Indica de estas figuras qué ángulos son rectos, agudos y obtusos:

a) f)

b) g)

c) h)

d) i)

e) j)

..... k)

2. Calcula el valor del ángulo indicado:

